



نماذج غير محلولة مع الإجابات

مبادئ الاقتصاد (قصد 211) المنهج الجديد



قصد 211

إبراهيم حسن العمان

موقع المواد التجارية / مخلصات , نماذج امتحانات

اسم الطالب :

الرقم الأكاديمي :

رقم التسلسل :

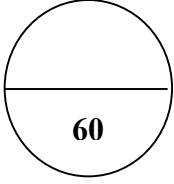
التوقيع :

الهدف :

📍 @t.eaman

🔍 www.commbh.com

(((تذكر أن الكتاب المدرسي هو المرجع الأساسي)))



مملكة البحرين
وزارة التربية والتعليم
إدارة الامتحانات / قسم الامتحانات المركزية

امتحان نهاية الفصل الدراسي الثاني للتعليم الثانوي للعام 2023/2022م

المسار: توحيد المسارات
الزمن: ساعة ونصف

اسم المقرر: مبادئ الاقتصاد
رمز المقرر: قصد 211

7

السؤال الأول: أكتب التعريف أو المصطلح المناسب لكل مما يلي:

م	المصطلح	التعريف
1	هي مجموعة متكاملة من عمليات عقد الصفقات وتأسيس الروابط التجارية وتوزيع وتسويق وبيع المنتجات بوسائط إلكترونية.
2	المنفعة الكلية
3	الكميات من السلعة التي يكون المستهلك راغباً في الحصول عليها وقادراً على شرائها عند سعر معين، في فترة زمنية معينة.
4	هي تقلبات منتظمة بصورة دورية في مستوى النشاط الاقتصادي يترتب عليها حدوث اختلال ما بين الإنتاج والاستهلاك، وهي تميل للتكرار بين حين وآخر.
5	تكلفة الفرصة البديلة
6	مرونة الطلب
7	مجموعة منحنيات تمثل مستويات مختلفة من الاشباع الذي يزداد كلما ابتعد المنحنى عن نقطة الصفر.

7

السؤال الثاني: ضع دائرة حول رمز الإجابة الصحيحة فقط:

- يوزع فيه الدخل المتولد في المجتمع على العوامل الإنتاجية التي اشتركت في توليده:
 - التوزيع الشخصي للدخل
 - الدخل النقدي
 - التوزيع الوظيفي للدخل
 - الدخل الحقيقي
- من أسباب المشكلة الاقتصادية في العالم:
 - ندرة الموارد المتاحة
 - تعدد الاحتياجات البشرية
 - الاختيار والمفاضلة
 - كل ما ذكر صحيح
- يقصد به مقدار ما يمكن زيادته من حجم الأراضي داخل الدولة:
 - العرض الاقتصادي للأرض
 - الطلب الاقتصادي للأرض
 - العرض
 - العرض المادي للأرض

- 4- هو منحني ذو ميل سالب ينحدر من الأعلى الى الأسفل ومن اليسار الى اليمين ليبين العلاقة العكسية بين السعر والكمية:
أ- منحني السواء
ب- منحني الطلب
ج- منحني العرض
د- منحني المنفعة الكلية
- 5- من القطاعات الصناعية التي تتميز بها مملكة البحرين صناعة:
أ- الحرف اليدوية
ب- الملابس الجاهزة
ج- تجهيز الاغذية
د- كل ما ذكر صحيح
- 6- يرتبط الأجر الحقيقي مع مستوى الأسعار بعلاقة:
أ- عكسية
ب- تنافسية
ج- طردية
د- كل ما ذكر صحيح
- 7- من المبادرات الحكومية في مجال الابتكار:
أ- الاستثمار في السندات الحكومية
ب- دعم متضرري الزلازل
ج- فريق البحرين للفضاء
د- حماية أفراد المجتمع من ارتفاع الاسعار

السؤال الثالث:**أ- أجب عن الأسئلة التالية:**

1. من مزايا اختيار منطقة البحرين اللوجستية كمركز أساسي للأعمال في المنطقة:
أ-
ب-
2. من مؤشرات أداء الاستراتيجية الوطنية للتجارة الالكترونية في مملكة البحرين
أ-
ب-
3. من العوامل المؤثرة في مرونة العرض:
أ-
ب-
4. من العناصر المكونة للسوق:
أ-
ب-

ب- علل ما يلي:

1. يلعب القطاع المصرفي دوراً بالغ الأهمية في اظهار وإبراز مملكة البحرين كمركز مالي رائد في المنطقة.

.....

.....

2. يرى مفكرو الاقتصاد الحديث أن الحصول على الفائدة أمر إيجابي.

.....

.....

11

السؤال الرابع:

أ- قارن بين مرحلة الركود ومرحلة الانتعاش من حيث ما يلي:

مرحلة الانتعاش	مرحلة الركود	وجه المقارنة
.....	مستوى الناتج المحلي الإجمالي
.....	معدل البطالة
.....	مستوى الأسعار

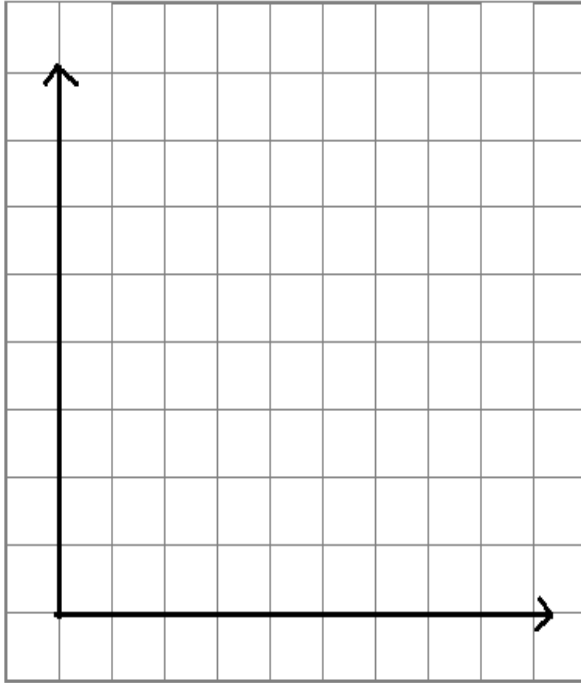
ب - أكمل الجدول التالي الذي يحتوي على عوامل تؤثر في العرض والطلب :

م	العامل المؤثر	يؤثر على (الطلب - العرض)	كمية السوق (ارتفاع - انخفاض)
1	زيادة أسعار الجلد المستخدم في صناعة الأحذية.
2	زيادة تفضيل المستهلك لقراءة الكتب الورقية.
3	انخفاض سعر البييتزا كبديل للمستهلك عن الهمبرجر.
4	زيادة عدد البائعين ل playstation5 في السوق.

السؤال الخامس:

13

فيما يلي جدول يبين الكميات المطلوبة والمعرضة لسبعة ما خلال فترة زمنية محددة:



الكمية المعرضة	الكمية المطلوبة	السعر
1000	5000	5
2000	4000	10
3000	3000	15
4000	2000	20
5000	1000	25

1- ارسم وضع التوازن، محددًا على الرسم ما يلي:

- المتغيرات على المحورين الافقي والرأسي.
- منحنى العرض والطلب.
- نقطة التوازن
- سعر وكمية التوازن.
- منطقة العجز والفائض.

2- ما نوع العلاقة بين السعر والكمية المعروضة:

3- احسب درجة مرونة العرض عند تغير السعر من 15 دينار إلى 20 دينار، وحدد نوع المرونة.

• مرونة العرض =

.....

• نوع المرونة:

10

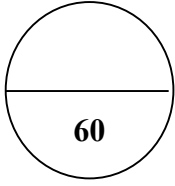
السؤال السادس:

فيما يلي جدول يبين الوحدات المستهلكة من سلعة ما والمنفعة الحدية والكلية:

6	5	4	3	2	1	0	وحدات السلعة
							سعر السلعة
...	4	6	...	10	12	...	المنفعة الحدية
42	30	22	...	0	المنفعة الكلية

- 1- أكمل الفراغ في الجدول السابق، ثم أجب عما يلي:
- 2- بافتراض ان الوحدة التي تحقق التوازن هي الوحدة الثالثة فإن سعر السلعة =
- 3- المنفعة الحدية عند الوحدة السابعة =
- 4- نوع العلاقة بين المنفعة الحدية والوحدات المستهلكة وذلك بسبب

انتهت الاسئلة



مملكة البحرين
وزارة التربية والتعليم
إدارة الامتحانات / قسم الامتحانات المركزية

امتحان نهاية الفصل الدراسي الثاني للتعليم الثانوي للعام 2023/2022م

المسار: توحيد المسارات - مكفوفين
الزمن: ساعة ونصف

اسم المقرر: مبادئ الاقتصاد
رمز المقرر: قصد 211

السؤال الأول: أكتب التعريف أو المصطلح المناسب لكل مما يلي:

م	المصطلح	التعريف
1	الإنتاج
2	هو المكان الذي يلتقي فيه البائعون والمشترون لبيع وشراء السلع والخدمات.
3	هو أحد العلوم الاجتماعية الذي يدرس سلوك الانسان في سعيه المستمر لإشباع حاجاته المتعددة والمتزايدة في ظل وجود موارد اقتصادية محدودة ونادرة.
4	هي درجة استجابة الكمية المعروضة للتغير في السعر.
5	المنفعة الكلية
6	سعر التوازن
7	المبالغ المدفوعة لأصحاب عوامل الإنتاج نظير استعمالها في العمليات الإنتاجية بخلاف عائد التنظيم.

السؤال الثاني: ضع دائرة حول رمز الإجابة الصحيحة فقط:

1- قيمة المنفعة التي يمكن تحصيلها من فرص أخرى وتم التنازل عنها بسبب استعمال المورد الاقتصادي في نشاط معين:

- أ- التكلفة المتغيرة
ب- الدخل النقدي
ج- تكلفة الفرصة البديلة
د - الدخل الحقيقي

2- من خطوات حل المشكلة الاقتصادية في النظم الاقتصادية:

- أ- ماذا ننتج؟
ب- لمن ننتج؟
ج- كيف ننتج؟
د - كل ما ذكر صحيح

3- من منافع الانتاج:

- أ- المنفعة الشكلية
ب- المنفعة الكلية
ج- المنفعة الحدية
د - لا شيء مما سبق.

4- هو منحنى ذو ميل موجب يتجه من أسفل الى أعلى ومن اليسار الى اليمين ليبين العلاقة الطردية بين السعر والكمية:

- أ- منحنى السواء
ب-منحنى الطلب
ج-منحنى العرض
د- منحنى المنفعة الكلية

5- يقوم بالتنسيق بين اختيارات المشترين والبائعين وتحقيق التوافق بين قراراتهم عن طريق السعر، وهذا يسمى:

- أ- التوازن المالي
ب-توازن الاقتصاد
ج-توازن ميزان المدفوعات
د- توازن السوق

6- العلاقة بين المنفعة الكلية والوحدات المستهلكة من السلعة:

- أ- طردية
ب- تنافسية
ج-عكسية
د- كل ما ذكر صحيح

7- التغيير في السعر الذي لا يؤدي الى تغيير الكمية المعروضة يكون في حالة:

- أ- العرض المرن
ب-العرض لانهائي المرنة
ج-العرض عديم المرنة
د- العرض غير المرن

السؤال الثالث:

أ- أجب عن الأسئلة التالية:

1. عوامل الإنتاج (المدخلات) وعوائدها هي:

- أ- وعائده
- ب- وعائده
- ج- وعائده
- د - وعائده

2- من مؤشرات أداء الاستراتيجية الوطنية للتجارة الالكترونية في مملكة البحرين:

- أ-
- ب-
- ج-
- د-

3- من خصائص العرض المرن:

- أ-
- ب-
- ج-

4

السؤال الرابع:
4- علل ما يلي:

1. أحدثت التجارة الالكترونية نقلة نوعية هائلة تمكنت من تغيير ثقافة الشراء حول العالم، والسلوكيات الشرائية، لتوضح أهمية التجارة الالكترونية حالياً.

.....
.....
.....

2. التخطيط الاستراتيجي للمشروع والتطوير الدائم في تقديم المنتجات بمواصفات عالية تتناسب ورغبات المستهلكين.

.....
.....

11

السؤال الخامس:

أ- قارن بين التجارة التقليدية والالكترونية من حيث التالي:

التجارة الالكترونية	التجارة التقليدية	وجه المقارنة
.....	الاحتيال
.....	القنوات
.....	وقت وصول البضاعة

ب – قارن بين الطلب عديم المرونة والطلب لا نهائي المرونة من حيث ما يلي:

الطلب لا نهائي المرونة	الطلب عديم المرونة	وجه المقارنة
.....	الكمية المطلوبة
.....	السعر
.....	المعامل العددي (درجة المرونة)
.....	شكل المنحنى

16

السؤال السادس:

بعد اكتشاف النفط تطورت الصناعة، ومع اتجاهات مملكة البحرين في تنويع مصادر الدخل تم تأسيس برنامج الصناعة الحالي في عام 1971، والذي يهدف إلى تنويع الصناعات الأخرى بعيدا عن صناعة النفط والبتروكيمياويات. كما اهتمت حكومة مملكة البحرين ممثلة في وزارة السياحة وهيئة البحرين للسياحة والمعارض بتنشيط السياحة. من خلال العبارة السابقة، أجب ما يلي:

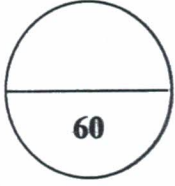
أ- من القطاعات الصناعية التي باتت تتميز بها مملكة البحرين:

- 1-
- 2-
- 3-
- 4-

ب- أهمية السياحة في مملكة البحرين ترجع للأسباب التالية:

- 1-
- 2-
- 3-
- 4-

انتهت الاسئلة



مملكة البحرين
وزارة التربية والتعليم
إدارة الامتحانات / قسم الامتحانات المركزية

امتحان الدور الثاني للتعليم الثانوي للعام الدراسي 2023/2022 م

المسار: توحيد المسارات
الزمن: ساعة ونصف

اسم المقرر: مبادئ الاقتصاد
رمز المقرر: قُصد 211

7

السؤال الأول: أكتب التعريف أو المصطلح المناسب لكل مما يلي:

م	المصطلح	التعريف
1	السعر الذي يكون المشتريين والبائعين مستعدين للتعامل به في السوق.
2	هي منفعة تنشأ عن استهلاك الوحدة الأخيرة من السلعة.
3	هي الموارد المادية والبشرية كماً ونوعاً والتي تستعمل في إنتاج السلع والخدمات.
4	السياحة
5	الأجور التعاقدية
6	درجة تأثر أو استجابة الكمية المعروضة للتغير في السعر.
7	العمليات التي ينتج عنها نقل السلعة من مكان انتاجها الى مكان تسويقها.

7

السؤال الثاني: ضع دائرة حول رمز الإجابة الصحيحة فقط:

- يقصد به المبالغ النقدية التي يحصل عليه العامل مقابل ما يقدمه من جهد خلال فترة معينة:
 - التوزيع الشخصي للدخل
 - الأجر النقدي
 - التوزيع الوظيفي للدخل
 - الدخل الحقيقي
- من عوامل الانتاج:
 - الأرض
 - التنظيم
 - العمل
 - كل ما ذكر صحيح
- هي تمثل المستهلكين الذين يرغبون في الحصول على السلع بأقل الأسعار:
 - الكمية المطلوبة
 - الكمية المنتجة
 - الكمية المعروضة
 - لا شيء مما سبق
- هو منحنى ذو ميل سالب ينحدر من الأعلى الى الأسفل ومن اليسار الى اليمين والنقاط عليه تعطي المستهلك نفس مستوى الاشباع:
 - منحنى السواء
 - منحنى الطلب
 - منحنى العرض
 - منحنى المنفعة الكلية

5- من أمثلة رأس المال الثابت:

- أ- المواد الخام
ب- الآلات والمعدات
ج- الأرصدة النقدية
د- كل ما نكر صحيح

6- يرتبط السعر بالكمية المعروضة من السلعة بعلاقة:

- أ- عكسية
ب- تنافسية
ج- طردية
د- كل ما نكر صحيح

7- من أنواع التجارة الالكترونية تتم من المستهلك للإدارة ويرمز لها بالرمز:

- أ- C2A
ب- C2B
ج- C2C
د- B2C

12

السؤال الثالث:

أ- أجب عن الأسئلة التالية:

1. من فوائد التجارة الالكترونية:

- أ-
ب-

2- من أهمية السياحة في مملكة البحرين:

- أ-
ب-

3- من العوامل المؤثرة في مرونة الطلب:

- أ-
ب-

4- من أولويات خطة التعافي الاقتصادي:

1.
2.

ب- علل ما يلي:

1. يرتبط علم الاقتصاد بعلم المنطق.

-
.....

2. يعتبر العمل من العوامل الرئيسية والمؤثرة في عوامل الإنتاج الأخرى.

-
.....

11

السؤال الرابع:

أ- قارن بين التجارة التقليدية والالكترونية من حيث التالي:

التجارة الالكترونية	التجارة التقليدية	وجه المقارنة
.....	التكلفة
.....	مجال العمل
.....	فحص المنتج

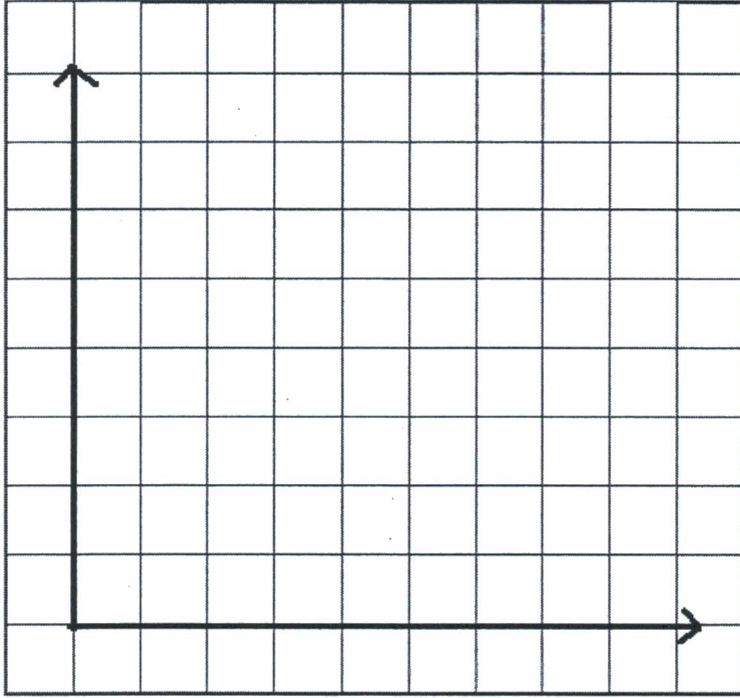
ب - قارن بين العرض عديم المرونة والعرض لانهاهي المرونة من حيث ما يلي :

العرض لانهاهي المرونة	العرض عديم المرونة	وجه المقارنة
.....	الكمية المعروضة
.....	السعر
.....	المعامل العددي (درجة المرونة)
.....	شكل المنحنى

السؤال الخامس:

12

فيما يلي جدول يبين الكميات المطلوبة من سلعة ما وسعرها خلال فترة زمنية محددة:



الكمية المطلوبة	السعر
50	2
40	3
30	4
20	5
10	6

المطلوب: أجب عن الأسئلة التالية:

- 1- ارسم منحنى الطلب موضحا المتغيرات مع الأرقام على الرسم.
- 2- ما نوع العلاقة بين السعر والكمية المطلوبة:
- 3- احسب درجة مرونة الطلب عند تغير السعر من 4 دينار إلى 5 دينار، وحدد نوع المرونة ونوع السلعة.

• مرونة الطلب =

.....

.....

• نوع المرونة:

• نوع السلعة:

11

السؤال السادس:

اقترضت فاطمة محمد مبلغ 4500 دينار من بيت التمويل الكويتي بمعدل فائدة 6% سنويا لمدة 5 سنوات.
المطلوب:

1- احتساب مبلغ الفائدة عن 5 سنوات.

.....

2- احتساب جملة المبلغ الذي ستدفعه فاطمة للبنك في نهاية مدة القرض.

.....

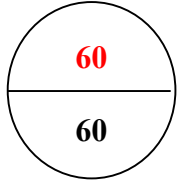
3- ما المقصود بالفائدة؟ ما عامل الإنتاج التي تمثل الفائدة عائد له؟

• الفائدة :

.....

• الفائدة تمثل عائد:

انتهت الاسئلة



مملكة البحرين
وزارة التربية والتعليم
إدارة الامتحانات / قسم الامتحانات المركزية

الإجابة النموذجية
نموذج 1

امتحان نهاية الفصل الدراسي الثاني للتعليم الثانوي للعام 2023/2022م

المسار: توحيد المسارات - مكفوفين
الزمن: ساعة ونصف

اسم المقرر: مبادئ الاقتصاد
رمز المقرر: قصد 211

7×1
7

السؤال الأول: أكتب التعريف أو المصطلح المناسب لكل مما يلي:

م	المصطلح	التعريف
1	التجارة الإلكترونية (ص115)	هي مجموعة متكاملة من عمليات عقد الصفقات وتأسيس الروابط التجارية وتوزيع وتسويق وبيع المنتجات بوسائط إلكترونية.
2	المنفعة الكلية	مجموع الأرباح الذي يحصل عليه الفرد من استهلاكه لوحدات السلعة خلال فترة زمنية معينة. ص88
3	الطلب ص42	الكميات من السلعة التي يكون المستهلك راغباً في الحصول عليها وقادراً على شرائها عند سعر معين، في فترة زمنية معينة.
4	الدورات الاقتصادية ص22	هي تقلبات منتظمة بصورة دورية في مستوى النشاط الاقتصادي يترتب عليها حدوث اختلال ما بين الإنتاج والاستهلاك، وهي تميل للتكرار بين حين وآخر.
5	تكلفة الفرصة البديلة	قيمة المنفعة التي كان يمكن تحصيلها من الفرص الأخرى وتم التنازل عنها بسبب استعمال المورد الاقتصادي في نشاط معين. ص19
6	مرونة الطلب	درجة تأثر أو استجابة الكمية المطلوبة من سلعة معينة للتغير في السعر. ص46
7	خريطة السواء ص91	مجموعة منحنيات تمثل مستويات مختلفة من الأرباح الذي يزداد كلما ابتعد المنحنى عن نقطة الصفر.

7×1
7

السؤال الثاني: ضع دائرة حول رمز الإجابة الصحيحة فقط:

1- يوزع فيه الدخل المتولد في المجتمع على العوامل الإنتاجية التي اشتركت في توليده:

ص30

ج- التوزيع الوظيفي للدخل

د - الدخل الحقيقي

أ- التوزيع الشخصي للدخل

ب- الدخل النقدي

2- من أسباب المشكلة الاقتصادية في العالم:

ج- الاختيار والمفاضلة

د - كل ما ذكر صحيح

أ- ندرة الموارد المتاحة

ب- تعدد الاحتياجات البشرية

3- يقصد به مقدار ما يمكن زيادته من حجم الأراضي داخل الدولة:

ج- العرض

د - العرض المادي للأرض

أ- العرض الاقتصادي للأرض ص32

ب- الطلب الاقتصادي للأرض

4- هو منحنى ذو ميل سالب ينحدر من الأعلى الى الأسفل ومن اليسار الى اليمين ليبين العلاقة العكسية بين السعر والكمية:

- أ- منحنى السواء
ب- **منحنى الطلب** ص44
ج- منحنى العرض
د- منحنى المنفعة الكلية

5- من القطاعات الصناعية التي تتميز بها مملكة البحرين صناعة:

- أ- الحرف اليدوية
ب- الملابس الجاهزة
ج- تجهيز الاغذية
د- **كل ما ذكر صحيح** ص103

6- يرتبط الأجر الحقيقي مع مستوى الأسعار بعلاقة:

- أ- **عكسية** ص32
ب- تنافسية
ج- طردية
د- كل ما ذكر صحيح

7- من المبادرات الحكومية في مجال الابتكار:

- أ- الاستثمار في السندات الحكومية
ب- دعم متضرري الزلازل
ج- **فريق البحرين للفضاء** ص35
د- حماية أفراد المجتمع من ارتفاع الاسعار

12

12

السؤال الثالث:

أ- أجب عن الأسئلة- **يكتفى بنقطتين لكل سؤال: (كل نقطة بدرجة = 8 درجات)**

1. من مزايا اختيار منطقة البحرين اللوجستية كمركز أساسي للأعمال في المنطقة: ص109
أ- السماح بملكية الأجانب للشركات 100% - إمكانية الوصول من البر والبحر والجو.
ب- خدمات التخليص الجمركي 24 ساعة - توافر خدمات أساسية مثل إدارة المرافق- البنية التحتية.

2- من مؤشرات أداء الاستراتيجية الوطنية للتجارة الالكترونية في مملكة البحرين: ص120
أ- زيادة نسبة التجارة الالكترونية من الناتج - زيادة نسبة التجارة الالكترونية من الصادرات.
ب- مضاعفة عدد شركات التجارة الالكترونية - زيادة اعمال التجارة الالكترونية التي تفوقها المرأة.

3- من العوامل المؤثرة في مرونة العرض:
أ- قابلية السلعة للتخزين - انتقال عناصر الإنتاج - الفترة الزمنية للإنتاج
ب- تكاليف الإنتاج - قابلية السلعة للنقل - التحكم في حجم الانتاج ص68-69

4- من العناصر المكونة للسوق:
أ- العرض أو البائع
ب- الطلب أو المشتري ، أو السلعة أو الخدمة ص42

(2×2=4 درجات)

ب- علل ما يلي: يكتفى بنقطة واحدة لكل تعليل

1. يلعب القطاع المصرفي دوراً بالغ الأهمية في اظهار وإبراز مملكة البحرين كمركز مالي رائد في المنطقة.

ص107

بسبب اقتصاد السوق المفتوح - السياسات المالية المستقرة -وجود إطار عمل تنظيمي يتمتع بمصداقية كبيرة وفق المعايير الدولية - وجود عمالة محلية قوية ومؤهلة.

ص33

2. يرى مفكرو الاقتصاد الحديث أن الحصول على الفائدة أمر إيجابي. بسبب استغلال المال المقترض في انتاج السلع والخدمات التي تحقق أرباح للمؤسسة الإنتاجية.

11

11

السؤال الرابع:

(3×0.5=3 درجات)

ص22

أ- قارن بين مرحلة الركود ومرحلة الانتعاش من حيث ما يلي:

مرحلة الانتعاش	مرحلة الركود	وجه المقارنة
<u>مرتفع</u> /	<u>منخفض</u> /	مستوى الناتج المحلي الإجمالي
<u>منخفض</u> /	<u>مرتفع</u> /	معدل البطالة
<u>مرتفع</u> /	<u>منخفض</u> /	مستوى الأسعار

(8×1=8 درجات)

ب - أكمل الجدول التالي الذي يحتوي على عوامل تؤثر في العرض والطلب :

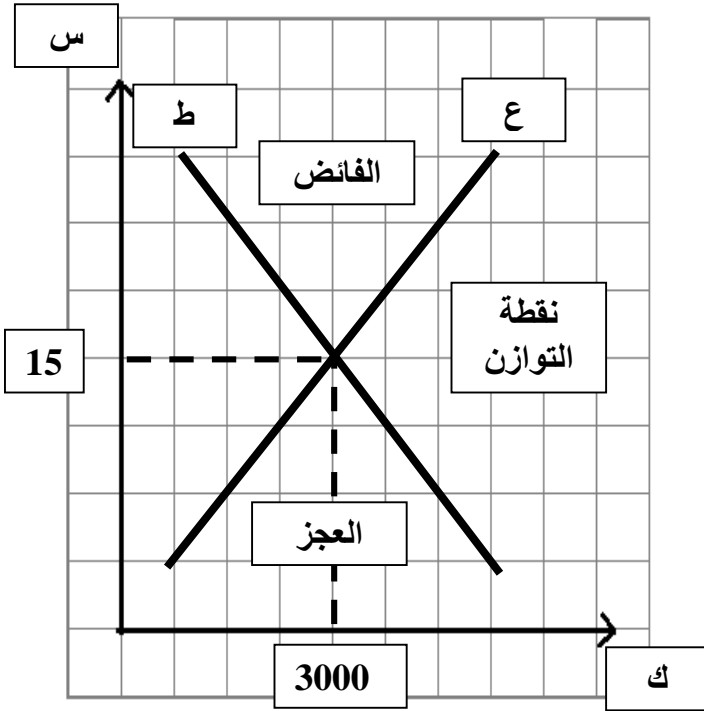
م	العامل المؤثر	يؤثر على (الطلب - العرض)	كمية السوق (ارتفاع - انخفاض)
1	زيادة أسعار الجلد المستخدم في صناعة الأحذية.	<u>العرض</u>	<u>انخفاض</u>
2	زيادة تفضيل المستهلك لقراءة الكتب الورقية.	<u>الطلب</u>	<u>ارتفاع</u>
3	انخفاض سعر البييتزا كبديل للمستهلك عن الهمبرجر.	<u>الطلب</u>	<u>انخفاض</u>
4	زيادة عدد البائعين ل playstation5 في السوق.	<u>العرض</u>	<u>ارتفاع</u>

13

13

السؤال الخامس:

فيما يلي جدول يبين الكميات المطلوبة والمعروضة لسلمة ما خلال فترة زمنية محددة:



الكمية المعروضة	الكمية المطلوبة	السعر
1000	5000	5
2000	4000	10
3000	3000	15
4000	2000	20
5000	1000	25

1- ارسم وضع التوازن، محددًا ما يلي:

- المتغيرات على المحورين الافقي والرأسي. (2)
- منحنى العرض والطلب. (2)
- نقطة التوازن (0.5)
- سعر وكمية التوازن. (2)
- منطقة العجز والفائض. (2)

2- ما نوع العلاقة بين السعر والكمية المعروضة: طردية (0.5)

3- احسب درجة مرونة العرض عند تغير السعر من 15 دينار إلى 20 دينار، وحدد نوع المرونة.

• مرونة العرض = $\frac{15 / 3000}{15 / -20} \times \frac{3000 / -4000}{15 / -20} = 1/$ (3.5 = 0.5x7)

• نوع المرونة: متكافئ المرونة (0.5)

10

10

السؤال السادس:

فيما يلي جدول يبين الوحدات المستهلكة من سلعة ما والمنفعة الحدية والكلية:

6	5	4	3	2	1	0	وحدات السلعة
							سعر السلعة
<u>2</u>	4	6	<u>8</u>	10	12	<u>0</u>	المنفعة الحدية
42	<u>40</u>	<u>36</u>	30	22	<u>12</u>	0	المنفعة الكلية

- 1- أكمل الفراغ في الجدول السابق، ثم أجب عما يلي: $(6 = 1 \times 6)$
- 2- بافتراض ان الوحدة التي تحقق التوازن هي الوحدة الثالثة فإن سعر السلعة = 8 (1)
- 3- المنفعة الحدية عند الوحدة السابعة = صفر (1)
- 4- نوع العلاقة بين المنفعة الحدية والوحدات المستهلكة عكسية (1) وذلك بسبب وصول المستهلك للإشباع (1)

انتهت الاجابة

الإجابة النموذجية

مملكة البحرين
وزارة التربية والتعليم
إدارة الامتحانات / قسم الامتحانات المركزية

امتحان نهاية الفصل الدراسي الثاني للتعليم الثانوي للعام 2023/2022م

المسار: توحيد المسارات - مكفوفين
الزمن: ساعة ونصف

اسم المقرر: مبادئ الاقتصاد
رمز المقرر: قصد 211

7×1

7

السؤال الأول: أكتب التعريف أو المصطلح المناسب لكل مما يلي:

م	المصطلح	التعريف
1	الإنتاج (ص 27)	عملية مركبة يتم اعداد المواد الأولية المتوافرة وتجهيزها وتحويلها إلى منتجات ذات منفعة بهدف اشباع حاجات غير مشبعة في المجتمع .
2	السوق	هو المكان الذي يلتقي فيه البائعون والمشترون لبيع وشراء السلع والخدمات. ص 42
3	علم الاقتصاد ص 14	هو أحد العلوم الاجتماعية الذي يدرس سلوك الانسان في سعيه المستمر لإشباع حاجاته المتعددة والمتزايدة في ظل وجود موارد اقتصادية محدودة ونادرة.
4	مرونة العرض	هي درجة استجابة الكمية المعروضة للتغير في السعر. ص 62
5	المنفعة الكلية	هي مجموع الاشباع المتحصل من استهلاك الفرد لوحدات سلعة معينة خلال فترة زمنية محددة. ص 88
6	سعر التوازن	هو السعر المتحقق فعلا في السوق، يتساوى الكمية التي يكون المستهلكون مستعدين لشراؤها من السلعة أو الخدمة، مع الكمية التي يكون المنتجون مستعدين لعرضها منها. ص 79
7	الأجور التعاقدية ص 34	المبالغ المدفوعة لأصحاب عوامل الإنتاج نظير استعمالها في العمليات الإنتاجية بخلاف عائد التنظيم.

7×1

7

السؤال الثاني: ضع دائرة حول رمز الإجابة الصحيحة فقط:

- 1- قيمة المنفعة التي يمكن تحصيلها من فرص أخرى وتم التنازل عنها بسبب استعمال المورد الاقتصادي في نشاط معين:
أ- التكلفة المتغيرة
ب- الدخل النقدي
ج- تكلفة الفرصة البديلة
د - الدخل الحقيقي
ص 19
- 2- من خطوات حل المشكلة الاقتصادية في النظم الاقتصادية:
أ- ماذا ننتج؟
ب- لمن ننتج؟
ج-كيف ننتج؟
د - كل ما ذكر صحيح
ص 17
- 3- من منافع الإنتاج:
أ- المنفعة الشكلية
ب- المنفعة الكلية
ج- المنفعة الحدية
د - لا شيء مما سبق.
ص 29

4- هو منحني ذو ميل موجب يتجه من أسفل الى أعلى ومن اليسار الى اليمين ليبين العلاقة الطردية بين السعر والكمية:

أ- منحني السواء
ب- **منحني الطلب**
ج- **منحني العرض** ص58
د- منحني المنفعة الكلية

5- يقوم بالتنسيق بين اختيارات المشترين والبائعين وتحقيق التوافق بين قراراتهم عن طريق السعر، وهذا يسمى :
أ- التوازن المالي
ب- توازن الاقتصاد
ج- توازن ميزان المدفوعات
د- **توازن السوق** ص79

6- العلاقة بين المنفعة الكلية والوحدات المستهلكة من السلعة:

أ- **طردية** ص87
ب- تنافسية
ج- عكسية
د- كل ما ذكر صحيح

7- التغيير في السعر الذي لا يؤدي الى تغيير الكمية المعروضة يكون في حالة:

أ- العرض المرن
ب- العرض لانهائي المرنة
ج- **العرض عديم المرنة** ص63
د- العرض غير المرن

1×15

15

السؤال الثالث:

أ- أجب عن الأسئلة التالية:

ص31

1. عوامل الإنتاج (المدخلات) وعوائدها هي:

- أ- الأرض / وعائده الربح.
ب- العمل / وعائده الأجر.
ج- رأس المال / وعائده الفائدة.
د - التنظيم / وعائده الربح.

ص120

2- من مؤشرات أداء الاستراتيجية الوطنية للتجارة الالكترونية في مملكة البحرين:

- أ- زيادة نسبة التجارة الالكترونية من الناتج /
ب- زيادة نسبة التجارة الالكترونية من الصادرات. /
ج- مضاعفة عدد شركات التجارة الالكترونية /
د- زيادة اعمال التجارة الالكترونية التي تقودها المرأة. /

ص65

3- من خصائص العرض المرن:

- أ- التغيير النسبي في السعر يؤدي الى تغيير نسبي أكبر في الكمية المعروضة. /
ب- درجة المرنة أكبر من الواحد الصحيح. /
ج- المنحني بطن الانحدار واقرب ما يكون الى الخط المستقيم الموازي للمحور الافقي. /

2 × 2

4

السؤال الرابع:

4- علل ما يلي: يكتفى بنقطة واحدة لكل تعليل

1. أحدثت التجارة الالكترونية نقلة نوعية هائلة تمكنت من تغيير ثقافة الشراء حول العالم، والسلوكيات الشرائية، لتوضح أهمية التجارة الالكترونية حالياً. **ص117**
بسبب أهمية التجارة الالكترونية في توسيع العلاقة التجارية – أكثر ملاءمة لظروف العملاء – تكاليف أقل – توفر الخصوصية للمستهلك – توسع الفئات المستهدفة.

2. التخطيط الاستراتيجي للمشروع والتطوير الدائم في تقديم المنتجات بمواصفات عالية تتناسب ورغبات المستهلكين. **ص34**
لان ذلك يؤدي الى زيادة الطلب على منتجاتهم والتي بدورها يؤدي الى زيادة أرباح المشروع.

11

11

السؤال الخامس:

أ- قارن بين التجارة التقليدية والالكترونية من حيث التالي: **ص118**

(6 × 0.5 = 3 درجات)

وجه المقارنة	التجارة التقليدية	التجارة الالكترونية
الاحتيال	<u>الأمانة وقلة الاحتيال</u> /	<u>يكثر فيه النصب والاحتيال</u> /
القنوات	<u>التواصل المباشر</u> /	<u>استخدام الانترنت</u> /
وقت وصول البضاعة	<u>فوراً</u> /	<u>تأخذ وقت</u> /

ب – قارن بين الطلب عديم المرونة والطلب لا نهائي المرونة من حيث ما يلي: **ص 47-48**

(8 × 1 = 8 درجات)

وجه المقارنة	الطلب عديم المرونة	الطلب لا نهائي المرونة
الكمية المطلوبة	<u>ثابتة</u> /	<u>متغيرة</u> /
السعر	<u>متغير</u> /	<u>ثابت</u> /
المعامل العددي (درجة المرونة)	<u>صفر</u> /	<u>ما لانهاية</u> /
شكل المنحنى	<u>عمودي على المحور الأفقي</u> /	<u>خط مستقيم موازي للمحور الأفقي</u> /

2×8

16

السؤال السادس:

بعد اكتشاف النفط تطورت الصناعة، ومع اتجاهات مملكة البحرين في تنويع مصادر الدخل تم تأسيس برنامج الصناعة الحالي في عام 1971، والذي يهدف إلى تنويع الصناعات الأخرى بعيدا عن صناعة النفط والبتترول . كما اهتمت حكومة مملكة البحرين ممثلة في وزارة السياحة وهيئة البحرين للسياحة والمعارض بتنشيط السياحة.
من خلال العبارة السابقة، أجب ما يلي:

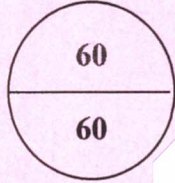
أ- من القطاعات الصناعية التي باتت تتميز بها مملكة البحرين:

- 1- الالمنيوم – الصناعات الهندسية /
- 2- البتروكيماويات والبلاستيك. /
- 3- تجهيز الأغذية /
- 4- الملابس الجاهزة -الحرف اليدوية. /

ب- أهمية السياحة في مملكة البحرين ترجع للأسباب التالية:

- 1- زيادة الدخل الاقتصادي. /
- 2- تعزيز الاستثمار. /
- 3- زيادة الناتج المحلي. /
- 4- ابراز المكانة التاريخية والحضارية للبلاد. /

انتهت الاجابة



مملكة البحرين
وزارة التربية والتعليم
إدارة الامتحانات / قسم الامتحانات المركزية

الإجابة النموذجية

امتحان الدور الثاني للتعليم الثانوي للعام الدراسي 2023/2022 م

المسار: توحيد المسارات
الزمن: ساعة ونصف

اسم المقرر: مبادئ الاقتصاد
رمز المقرر: قصد 211

7×1
7

السؤال الأول: أكتب التعريف أو المصطلح المناسب لكل مما يلي:

م	المصطلح	التعريف
1	سعر التوازن ص 79	السعر الذي يكون المشتريين والبائعين مستعدين للتعامل به في السوق
2	المنفعة الحدية ص 89	هي منفعة تنشأ عن استهلاك الوحدة الأخيرة من السلعة.
3	الموارد الاقتصادية/عوامل الإنتاج/المدخلات ص 28	هي الموارد المادية والبشرية كماً ونوعاً والتي تستعمل في إنتاج السلع والخدمات.
4	السياحة	هي انتقال الانسان مؤقتاً من بلد اقامته الى بلد اخر مدة تزيد عن 24 ساعة، وتقل عن عام، لأي غرض غير الهجرة أو العمل. ص 104
5	الأجور التعاقدية	المبالغ المدفوعة لأصحاب عوامل الإنتاج نظير استعمالها في العمليات الإنتاجية بخلاف عائد التنظيم (الربح). ص 34
6	مرونة العرض ص 62	درجة تأثر أو استجابة الكمية المعروضة للتغير في السعر.
7	المنفعة المكانية ص 29	العمليات التي ينتج عنها نقل السلعة من مكان انتاجها الى مكان تسويقها.

7×1
7

السؤال الثاني: ضع دائرة حول رمز الإجابة الصحيحة فقط:

- 1- يقصد به المبالغ النقدية التي يحصل عليه العامل مقابل ما يقدمه من جهد خلال فترة معينة:
أ- التوزيع الشخصي للدخل
ب- الأجر النقدي ص 32
ج- التوزيع الوظيفي للدخل
د - الدخل الحقيقي

- 2- من عوامل الانتاج:
أ- الأرض
ب- التنظيم
ج- العمل
د - كل ما ذكر صحيح ص 28

- 3- هي تمثل المستهلكين الذين يرغبون في الحصول على السلع بأقل الأسعار:
أ- الكمية المطلوبة ص 79
ب- الكمية المنتجة
ج- الكمية المعروضة
د - لا شيء مما سبق

- 4- هو منحني ذو ميل سالب ينحدر من الأعلى الى الأسفل ومن اليسار الى اليمين والنقاط عليه تعطي المستهلك نفس مستوى الاشباع:
أ- منحني السواء ص 90
ب- منحني الطلب
ج- منحني العرض
د- منحني المنفعة الكلية

5- من أمثلة رأس المال الثابت:

ج- الأرصدة النقدية
د- كل ما ذكر صحيح

أ- المواد الخام

ب- الآلات والمعدات ص28

6- يرتبط السعر بالكمية المعروضة من السلعة بعلاقة:

ص57

ج- طردية

د- كل ما ذكر صحيح

أ- عكسية

ب- تنافسية

7- من أنواع التجارة الالكترونية تتم من المستهلك للإدارة ويرمز لها بالرمز:

ج- C2C

د- B2C

ص116

أ- C2A

ب- C2B

السؤال الثالث:

12

12

أ- أجب عن الأسئلة التالية: (كل نقطة بدرجة = 8 درجات) - يكتفى بنقطتين لكل سؤال

ص117

1. من فوائد التجارة الالكترونية:

- أ- تيسير عملية الشراء والتسوق على نحو سريع وفعال - الاستجابة الفورية للسوق ومتطلبات العملاء- توفير المقارنة بين عدد كبير من السلع والبضائع - المرونة في التعامل مع المستهلكين
ب- توفير عدد كبير من وسائل الدفع - توفير عدد كبير من المنتجات وسهولة وصول المستهلكين لها -عدم وجود قيود في التوصيل.

ص105

2- من أهمية السياحة في مملكة البحرين:

- أ- زيادة الدخل الاقتصادي - تعزيز الاستثمار.
ب- الاسهام في زيادة الدخل القومي - ابراز المكانة التاريخية والحضارية للبلاد.

ص53-52

3- من العوامل المؤثرة في مرونة الطلب:

- أ- بدائل السلعة - أهمية السلعة للمستهلك
ب- نصيب السلعة من دخل المستهلك - الدخل الصافي للمستهلك

ص23

4- من أولويات خطة التعافي الاقتصادي:

1. خلق فرص عمل واعدة لجعل المواطن الخيار الأول - تنفيذ مشاريع تنمية الواعدة
2. الاستدامة المالية والاستقرار الاقتصادي - تنمية القطاعات الواعدة - تسهيل الإجراءات التجارية

ب- علل ما يلي: (2 × 2 = 4 درجات) - يكتفى بنقطة واحدة لكل تعلييل

ص15

1. يرتبط علم الاقتصاد بعلم المنطق.

بسبب استعانة علماء الاقتصاد به للبرهنة على صحة نظرياتهم التي تعتمد على قواعد المنطق وقوانينه.

ص28

2. يعتبر العمل من العوامل الرئيسية والمؤثرة في عوامل الإنتاج الأخرى. لأنه من الصعب جداً الحصول على خيرات الطبيعة واستغلال رأس المال بدون العمل.

السؤال الرابع:

11

11

أ- قارن بين التجارة التقليدية والالكترونية من حيث التالي: ص 118

(3=0.5×6 درجات)

وجه المقارنة	التجارة التقليدية	التجارة الالكترونية
التكلفة	<u>مرتفعة - عالية</u>	<u>منخفضة - أقل</u>
مجال العمل	<u>منطقة معينة</u>	<u>جميع انحاء العالم</u>
فحص المنتج	<u>يمكن فحصه قبل الشراء</u>	<u>لا يمكن فحصه قبل الشراء</u>

ب - قارن بين العرض عديم المرونة والعرض لا نهائي المرونة من حيث ما يلي : (8=1×8 درجات)

وجه المقارنة	العرض عديم المرونة	العرض لا نهائي المرونة
الكمية المعروضة	<u>ثابتة</u>	<u>متغيرة</u>
السعر	<u>متغير</u>	<u>ثابت</u>
المعامل العددي (درجة المرونة)	<u>صفر</u>	<u>ما لانهاية</u>
شكل المنحنى	<u>عمودي على المحور الأفقي</u>	<u>خط مستقيم موازي للمحور الأفقي</u>

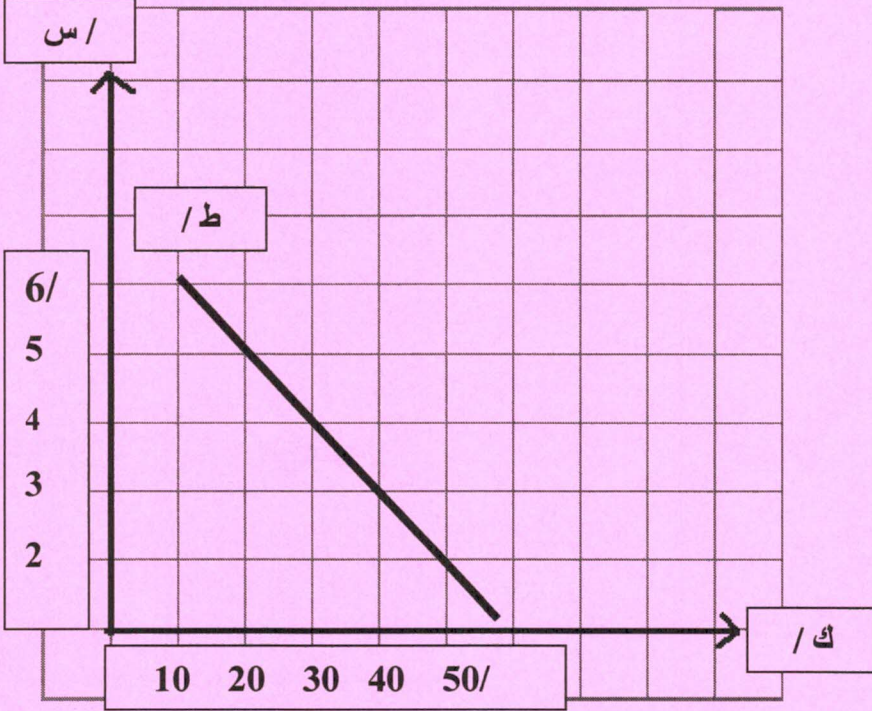
السؤال الخامس:

12

12

فيما يلي جدول يبين الكميات المطلوبة من سلعة ما وسعرها خلال فترة زمنية محددة:

الكمية المطلوبة	السعر
50	2
40	3
30	4
20	5
10	6



المطلوب : أجب عن الأسئلة التالية

- 1- ارسم منحنى الطلب موضحا المتغيرات مع الأرقام على الرسم.
- 2- ما نوع العلاقة بين السعر والكمية المطلوبة: عكسية (1)
- 3- احسب درجة مرونة الطلب عند تغير السعر من 4 دينار إلى 5 دينار، وحدد نوع المرونة ونوع السلعة.

• مرونة الطلب = $1.33 = \frac{4/}{30/} \times \frac{30/ - 20/}{4/ - 5/}$ (// $0.5 \times 8 = 4$ درجات)

- نوع المرونة: طلب مرن (1)
- نوع السلعة: سلعة كمالية (1)

1 × 11
11

السؤال السادس:

اقتضت فاطمة محمد مبلغ 4500 دينار من بيت التمويل الكويتي بمعدل فائدة 6% سنويا لمدة 5 سنوات.
المطلوب:

ص 33

1- احتساب مبلغ الفائدة عن 5 سنوات.

$$\text{مبلغ الفائدة} = 4500 \times 6\% \times 5 = 1350 \text{ دينار.}$$

2- احتساب جملة المبلغ الذي ستدفعه فاطمة للبنك في نهاية مدة القرض.

$$\text{الجملة} = 4500 + 1350 = 5850 \text{ دينار.}$$

3- ما المقصود بالفائدة؟ ما عامل الإنتاج التي تمثل الفائدة عائد له؟

- الفائدة : هي اجمالي المبالغ المدفوعة مقابل اقتراض مبلغ من المال (رأس المال) خلال فترة زمنية محددة (سنة أو أكثر). ///
- الفائدة : تمثل عائد رأس المال /

انتهت الاجابة